

MAT – Mreža kvadra in kocke

DU str. 14 (še za včeraj)


7. Cene je iz link kock sestavil figure. Koliko kock je porabil?
Ali ima naloga več rešitev?



11



8 7?



24+3

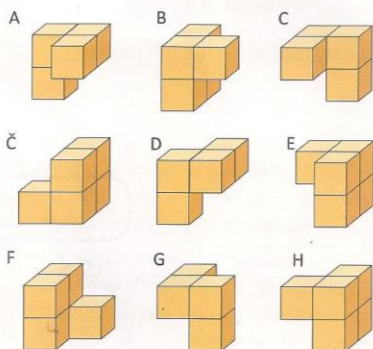
8. Najmanj koliko kock moraš dodati, da dobiš:

a) kvader 2

b) kocko 23




9. Oglej si figure, sestavljene iz kock. Predstavljaš si, kako bi bile videti, če bi jih pogledal od zgoraj in kako od spredaj. Vpiši črke na ustrezna mesta v preglednico. Lahko si pomagaš z modeli iz link kock.



Pogled od zgoraj			
C	B	Č D	A E
F	G	H	

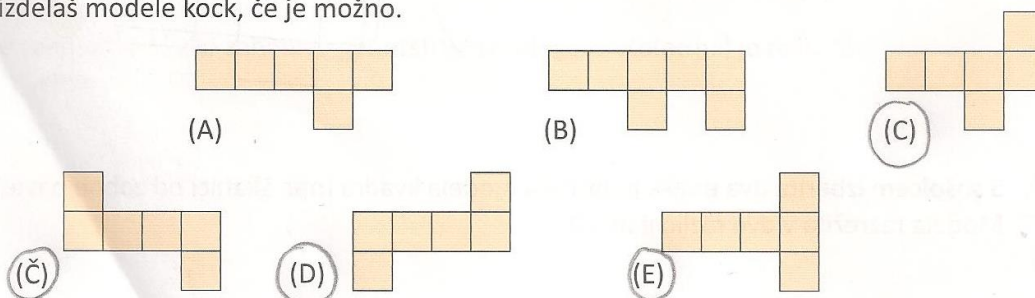
DU str. 16

4. Nejc je narisal 6 skladnih kvadratov. Ali je narisal mrežo kocke? Pojasni.



NE, mjerne ploskve bi se prekrivale.

5. Kateri izmed narisanih večkotnikov predstavlja mrežo kocke? Obkroži. Mreže lahko narišeš na karirast papir, jih izrežeš in s prepogibanjem izdelaj modele kock, če je možno.



SLJ – Vrstni pridevnik

Odgovori:

Kateri sladoled imaš najrajši? *jagodni sladoled, čokoladni sladoled, marelični sladoled*

Katero potico poznaš? *makova potica, lešnikova potica, orehova potica*

Katero obleko ima nevesta? *poročna obleka, svečana obleka*

S katerim strojem sem zašila obleko? *šivalni stroj*

Katere vrste riba je postrv? *sladkovodna riba*

Tvori ustrezen pridevnik:

juha iz kokoši *kokošja juha*

čaj iz lipe *lipov čaj*

namaz iz sira *sirni namaz*

potica z makom *makova potica*

nadev iz lešnikov *lešnikov nadev*

sok iz malin *malinov sok*